

6^{ème} – H3 – DM


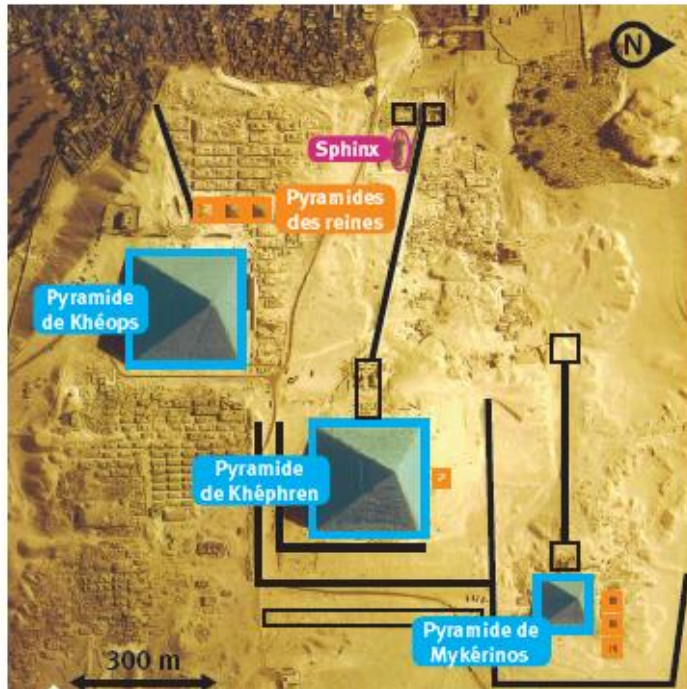
Les pyramides de Gizeh

Nom : Prénom : Classe :


Note : /20

Regarde la vidéo suivante : <https://dgxy.link/pyramidesGizeh>

Vue satellite



La pyramide de Khéops



La grande pyramide de Gizeh a été construite par le roi Khéops pour en faire son tombeau. Sa construction dura environ 20 ans. C'est la seule des sept merveilles du monde de l'Antiquité à avoir survécu. Elle détient tous les records : c'est la plus haute et la plus volumineuse des pyramides. Il a fallu 2 millions de blocs de pierre pour la réaliser et elle pèse 2 tonnes et demie ! Le Pharaon Khéphren a donné son visage au Grand Sphinx, gardien du site de Gizeh.

Époque/Dates	Vers 2 550 av. J.C
Courant artistique	Art égyptien
Technique	Taille de pierre
Dimensions	147m à l'origine 137m aujourd'hui

La pyramide à degrés

Cette pyramide à degrés est une sorte d'escalier permettant aux dieux de descendre sur la terre et à l'âme du défunt de monter au ciel. Ce tombeau monumental permettait de protéger le caveau où la momie du roi reposait. Deux galeries servaient de magasins pour la vie du roi dans l'au-delà. À côté de la pyramide, un culte était rendu au Pharaon dans le temple funéraire.

1) Où ont été construites les pyramides (1 pt) ?

2) A quel millénaire ont-elles été construites et pour qui (2 pts) ?

3) Comment la pyramide de Khéops est-elle considérée dans l'Antiquité ? Justifie (2 pts).

4) Attribue un nom à chaque photo : *pyramide de Khéops* – *Mastaba* – *pyramide à degrés* (3 pts).



5) Des 3 monuments, lequel est techniquement le plus réussi ? Pourquoi (2 pts) ?

6) Quelle est la fonction des pyramides ? Quelle est celle du Sphinx (2 pts) ?

7) A l'aide de la vue satellite, ajoute sur la photo les lettres correspondant aux éléments suivants (5 pts) :


A : *Khephren*

B : *Khéops*

C : *Sphinx*

D : *Mykérinos*

E : *Pyramides des reines.*



8) A l'aide du texte 'La pyramide à degrés', ajoute sur le schéma les lettres correspondant aux éléments suivants (3 pts) :

F : *Caveau*

G : *Temple funéraire*

H : *Pyramide à degrés*

